





مشخصات امتحان	مشخصات دانش آموز
درس: ریاضی	نام:
تاریخ: / /	نام خانوادگی:
پایه: پنجم	

ردیف	شرح سوالات
1	جدول زیر را کامل کنید. دویست و سی میلیارد و نهصد و ده میلیون و یک ۲۰۴۳۷۰۰۰۲۰
2	پاسخ سوال های زیر را به کمک محور به دست آورید. (الف) ۳ ساعت و ۲۰ دقیقه بعد از ۹:۲۰ چه ساعتی می شود؟ 
3	محل تقریبی عدد داده شده را روی محور مشخص کنید. ۴۰، ۳۵۲، ۸۷۹ 
4	در الگوی زیر، شکل هشتم چند ستاره دارد؟ شکل شماره ی ۵۰ چطور؟ ۳۸ میلیون 
5	دور اعدادی که مربوط به الگوی مربعی هستند، بکشید. ۱۰۰، ۹، ۳، ۶۴، ۱۶، ۲۱، ۲۸، ۲۵، ۳۶، ۴۳۶
6	درون مربع علامت (< = >) بگذارید. الف) ۴ ۵۸" ۴۲' ب) ۹ ۸ ۵۹' ۶۰" ج) ۹ ۱۲' ۳۰" ۸ ۷۸' ۱۰"
7	چهار کسر مساوی $\frac{2}{3}$ بنویسید.

مشخصات امتحان	مشخصات دانش آموز
درس: ریاضی	نام:
تاریخ: / /	نام خانوادگی:
پایه: پنجم	

۸	در جای خالی عدد مناسب بنویسید. $\frac{2}{7} = 1 - \frac{2}{7}$	
۹	جمع و تفریق های زیر را انجام دهید و جواب را در حد امکان ساده کنید. $7 - 2 \frac{3}{4} =$ $4 \frac{2}{4} + 2 \frac{3}{5} =$	
۱۰	با توجه به شکل پاسخ دهید. الف) چه کسری از شکل رنگ شده است. ب) نسبت قسمت رنگ نشده به رنگ شده: ج) درصد قسمت رنگ شده به رنگ نشده را حساب کنید.	
۱۱	عدد "۳۲" ۴۱' ۵ را یک عدد ..... می گویند.	
۱۲	محمد صبح روز پنجشنبه از ساعت "۸:۱۵:۵۰" تا ساعت ۱۲ و بعد از ظهر از ساعت "۳:۰۰ تا ۶:۰۰" تا ساعت ۶ بعد از ظهر مشغول خواندن کتاب داستان بود. او روی هم چه مدت کتاب می خوانده است؟	
۱۳	هنگام تولد رضا مادرش ۲۸ ساله بود. هم اکنون نسبت سن آن ها ۴ به ۱۱ است. سن هر کدام چه قدر است؟	
۱۴	در یک باغ میوه نسبت محصول انار به سیب ۳ به ۵ است اگر در این باغ ۴۸۰۰ میوه برداشت شود. از هر کدام چند کیلو برداشت شده است؟	
۱۵	دو نفر ۶۳۰۰ تومان پول دارند اگر نسبت پول آن ها $\frac{2}{5}$ باشد هر کدام چقدر پول دارند؟	
۱۶	یک تکه چوب ۱۲ متری را می خواهیم به شش قسمت مساوی تقسیم کنیم با چند برش ف می توان انجام داد؟ ۲ (۱) ۶ (۲) ۵ (۳) ۴ (۴) هیچ کدام □	

بازخوره معلم: